

國立臺北教育大學 96 學年度學士班轉學考試

學系：幼兒與家庭教育學系

科目：幼兒教育

壹、請將下列人物與學說論點做正確配對（請將學說論點分別列於每位人物的後面，可複選）（20 分）

人物	學說論點
蒙特梭利 _____	A. 愛彌兒 B. 五指教學法創始人
盧梭 _____	C. 幼兒教育改革的先驅 D. 兒童之家
裴斯塔洛齊 _____	E. 行為課程教學法創始人
柯門紐斯 _____	F. 開幼稚園師範生實習的先河 G. 恩物
杜威 _____	H. 闢建鼓樓幼稚園 I. 重視人本教育
皮亞傑 _____	J. 認知發展理論 K. 教育即生活
張雪門 _____	L. 「粉紅塔」教具
尼爾 _____	M. 幼稚園創始人 N. 貧苦兒童的導師
陳鶴琴 _____	O. 自然主義之父 P. 3H 教育(頭手心)
福祿貝爾 _____	Q. 自我調節 R. 夏山學校的創作人
	S. 泛智論 T. 做中學

貳、簡答題：(10 分)

1. 民國七十六年教育部修訂之「幼稚園課程標準」，其中的課程包含哪六大領域？(6 分)
2. 課程包含哪四個基本要素？(4 分)

參、論述題：(70分)

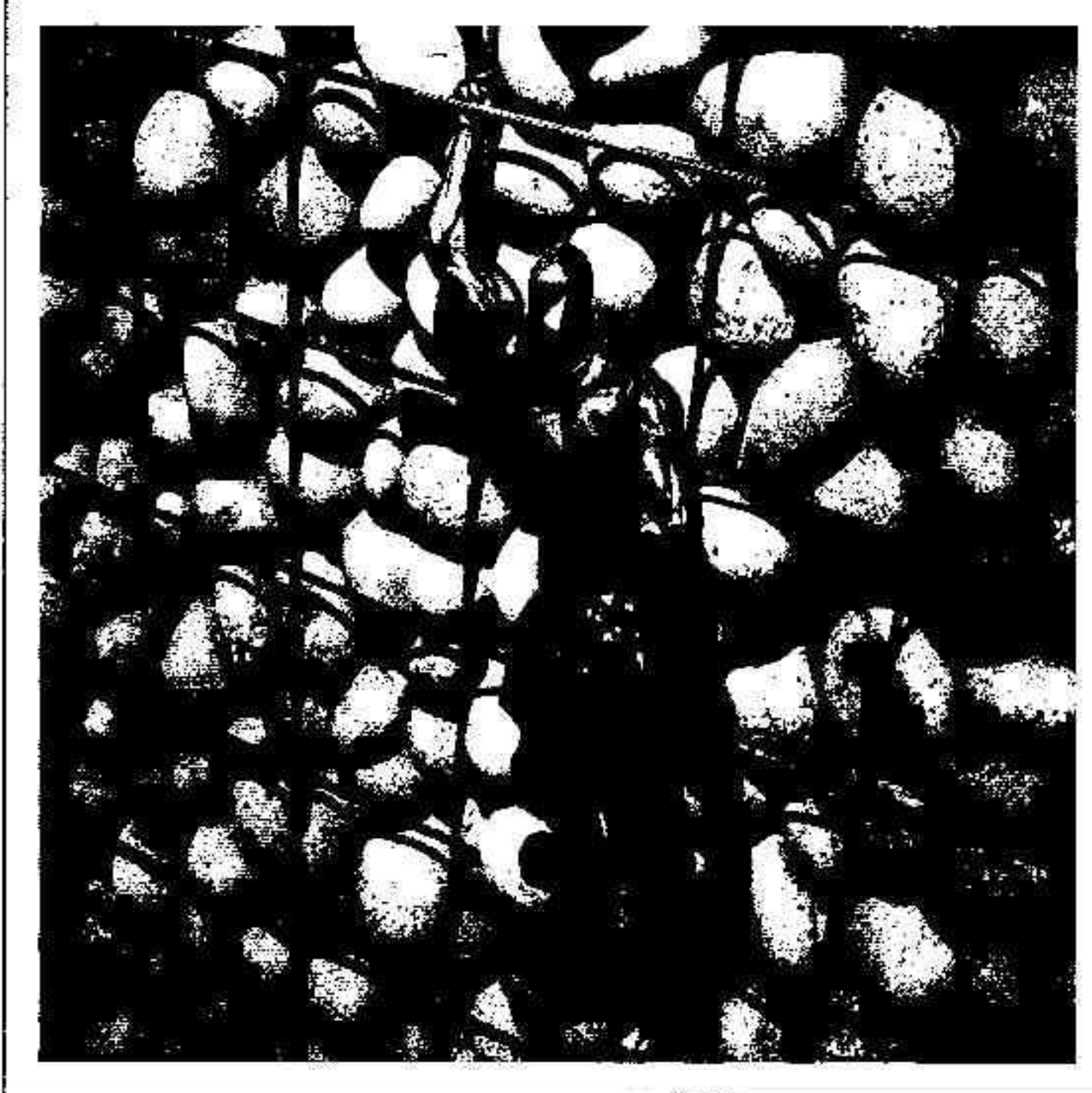

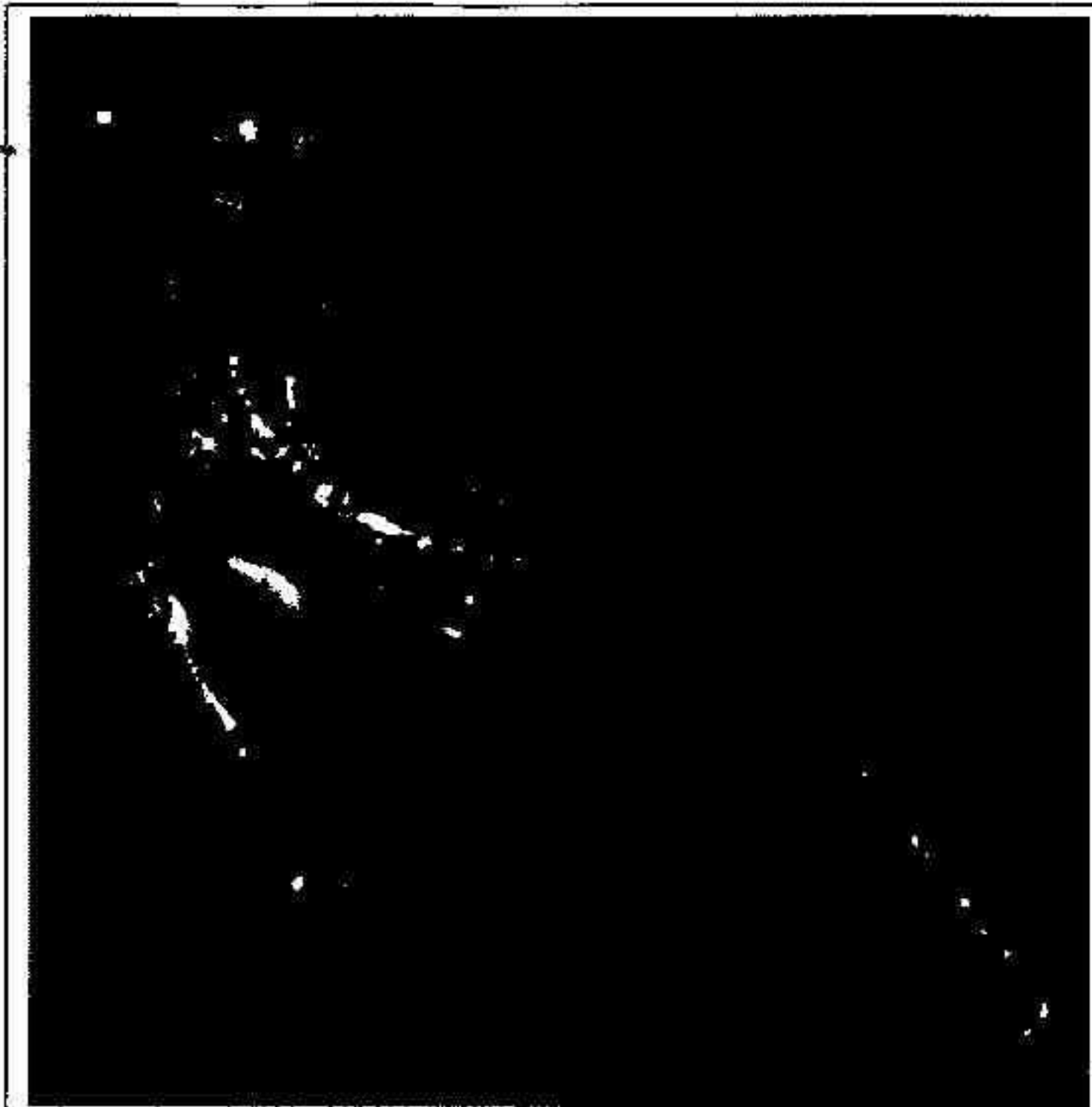
- 一、請闡述你的幼教觀，並說明哪些幼教哲學家或理論家的學說影響你至深。(20分)
- 二、請針對下頁(第3頁)的4張彩圖，擬定一個改變社會現象的計畫(請自訂主題)。(50分)

■評量標準：

1. 本計畫應使用所有彩圖(順序不一且可重複，彩圖請自行標號或命名以便使用)
2. 應說明您所擬定之社會現象需要改變的原因以及改變後的可能結果
3. 作答內容應具故事性。

■作答提醒：

1. 書面作答不限形式，請儘可能發揮您的想像與創意。
2. 請於答案紙作答，並禁止使用鉛筆作答，若使用鉛筆作答則本題以零分計算。



本試題彩圖著作權說明：彩圖均為命題者拍攝與提供，命題者已同意該圖作為此次試題使用。